



**PRUEBA DE APTITUD ARTÍSTICA
CICLOS FORMATIVOS DE GRADO SUPERIOR
CONVOCATORIA 2018**

RESOLUCIÓN 152/2018, de 12 de abril,

CALIFICACIÓN

APELLIDOS

NOMBRE

DNI

Contesta, verdadero o falso, a las siguientes preguntas:

(2 puntos. 0,2 puntos por pregunta correcta)

1. El poliéster es una resina derivada del petróleo completamente inodoro.
2. El capitel de Orden Dórico tiene forma de cesta rodeada de follaje, con volutas y filas de hojas de acanto.
3. El gramaje del papel que se utiliza normalmente oscila entre los 80 o 90 gramos/m2.
4. La serigrafía es una técnica de impresión en la que se transfiere la tinta por medio de un cilindro perforado.
5. Se puede hacer fotografía sin cámara fotográfica.
6. RAW, TIFF, PNG son formatos de imagen de mapa de bits
7. Jeff Koons es conocido como el principal artista kitsch
8. El diafragma de una cámara fotográfica es el dispositivo que controla el tiempo durante el que llega la luz al dispositivo fotosensible
9. El tratado de las proporciones y medidas del cuerpo humano se denomina ergonomía
10. El stop motion es una sucesión de imágenes fijas con animación foto a foto

V	F
<input type="checkbox"/>	<input type="checkbox"/>
<input type="checkbox"/>	<input type="checkbox"/>
<input type="checkbox"/>	<input type="checkbox"/>
<input type="checkbox"/>	<input type="checkbox"/>
<input type="checkbox"/>	<input type="checkbox"/>
<input type="checkbox"/>	<input type="checkbox"/>
<input type="checkbox"/>	<input type="checkbox"/>
<input type="checkbox"/>	<input type="checkbox"/>
<input type="checkbox"/>	<input type="checkbox"/>



PRUEBA DE APTITUD ARTÍSTICA CICLOS FORMATIVOS DE GRADO SUPERIOR CONVOCATORIA 2018

Escribe, en el recuadro inferior, un comentario comparando estas dos imágenes. (1 punto)






**PRUEBA DE APTITUD ARTÍSTICA
CICLOS FORMATIVOS DE GRADO SUPERIOR
CONVOCATORIA 2018**

Dibujo de línea. Termina el dibujo incompleto. (Mano alzada)


(2 puntos)





PRUEBA DE APTITUD ARTÍSTICA
CICLOS FORMATIVOS DE GRADO SUPERIOR
CONVOCATORIA 2018

Motivo geométrico. Completa la siguiente figura. Colorea con una gama de colores cálidos. (Mano alzada)
(2 puntos)






PRUEBA DE APTITUD ARTÍSTICA CICLOS FORMATIVOS DE GRADO SUPERIOR CONVOCATORIA 2018

Valoración de grises. Completa la siguiente foto, reconstruye la parte que falta utilizando los grises necesarios.

(2 puntos)

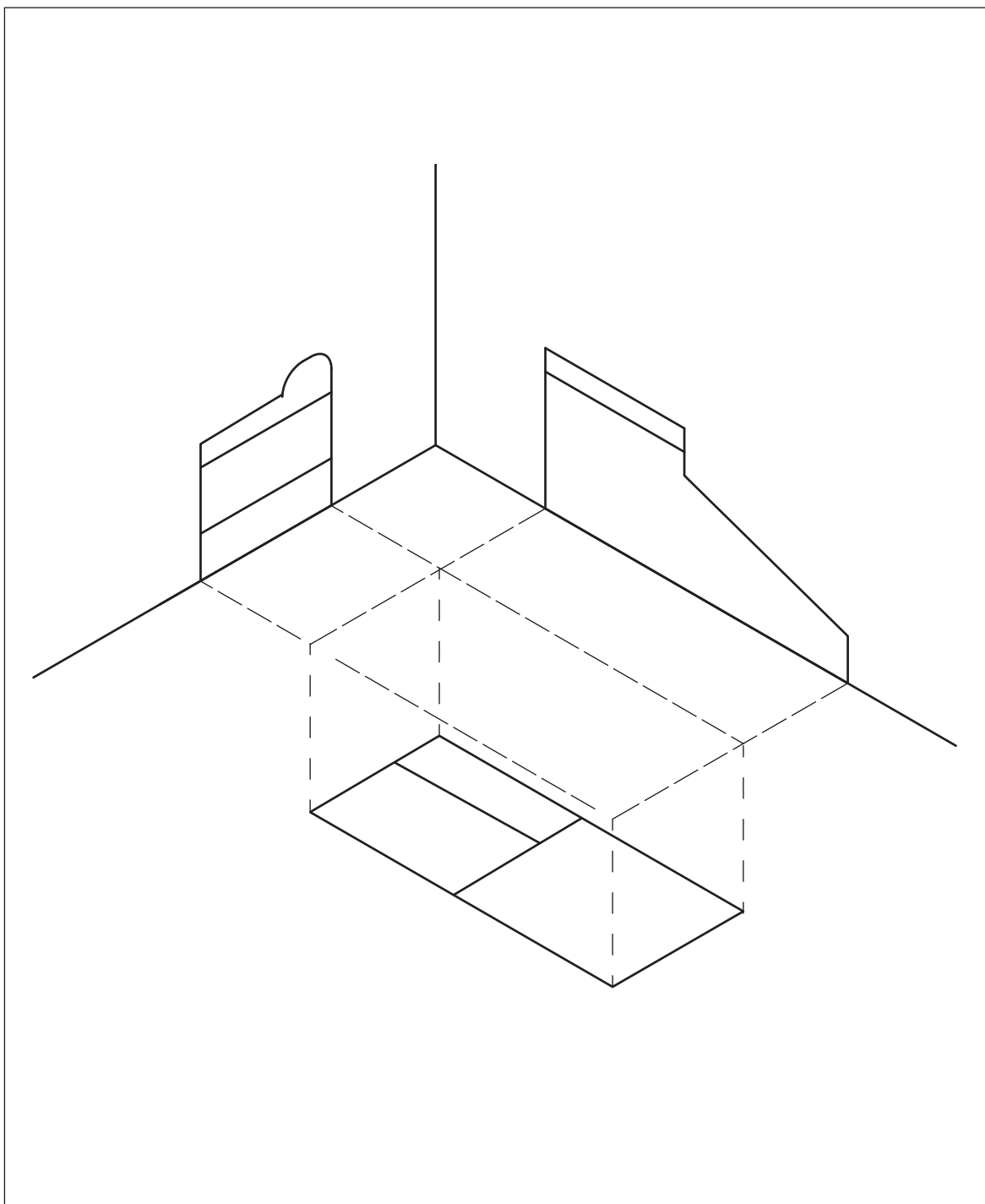




PRUEBA DE APTITUD ARTÍSTICA
CICLOS FORMATIVOS DE GRADO SUPERIOR
CONVOCATORIA 2018

Dibujo técnico. A partir de la vistas dadas, realiza la proyección isométrica. (1 punto)
(Mano alzada)

(1 punto)





PRUEBA DE APTITUD ARTÍSTICA
CICLOS FORMATIVOS DE GRADO SUPERIOR
CONVOCATORIA 2018
SEPTIEMBRE

RESOLUCIÓN 152/2018, de 12 de abril,

CALIFICACIÓN

APELLIDOS

NOMBRE

DNI

Contesta, verdadero o falso, a las siguientes preguntas:

(2 puntos. 0,2 puntos por pregunta correcta)

1. En la cámara fotográfica el obturador es un mecanismo que regula el tiempo de exposición
2. La xilografía es una técnica de impresión en relieve realizada sobre una matriz de metal
3. Si un dibujo está representado a escala 1:100 significa que 1 cm del papel representa 100 m de la realidad
4. La silicona es un elastómero usado para realizar moldes flexibles.
5. El modelo RGB está formado por los tres componentes de colores primarios aditivos: rojo (Red), verde (Green) y negro (Black).
6. El papel cuché lleva un revestimiento mineral de carbonato de calcio
7. La Bauhaus, es una escuela de artesanía, diseño, arte y arquitectura fundada en 1919 por Walter Gropius en Weimar (Alemania)
8. El estudio de las medidas y proporciones en el cuerpo humano se llama antropometría
9. Cada una de las imágenes instantáneas en las que se divide una película de cine se llama frame
10. Las esculturas en relieve son figuras que al ser tridimensionales pueden ser observadas desde todos los ángulos

V	F



**PRUEBA DE APTITUD ARTÍSTICA
CICLOS FORMATIVOS DE GRADO SUPERIOR
CONVOCATORIA 2018
SEPTIEMBRE**

Escribe, en el recuadro inferior, un comentario comparando estas dos imágenes. (1 punto)

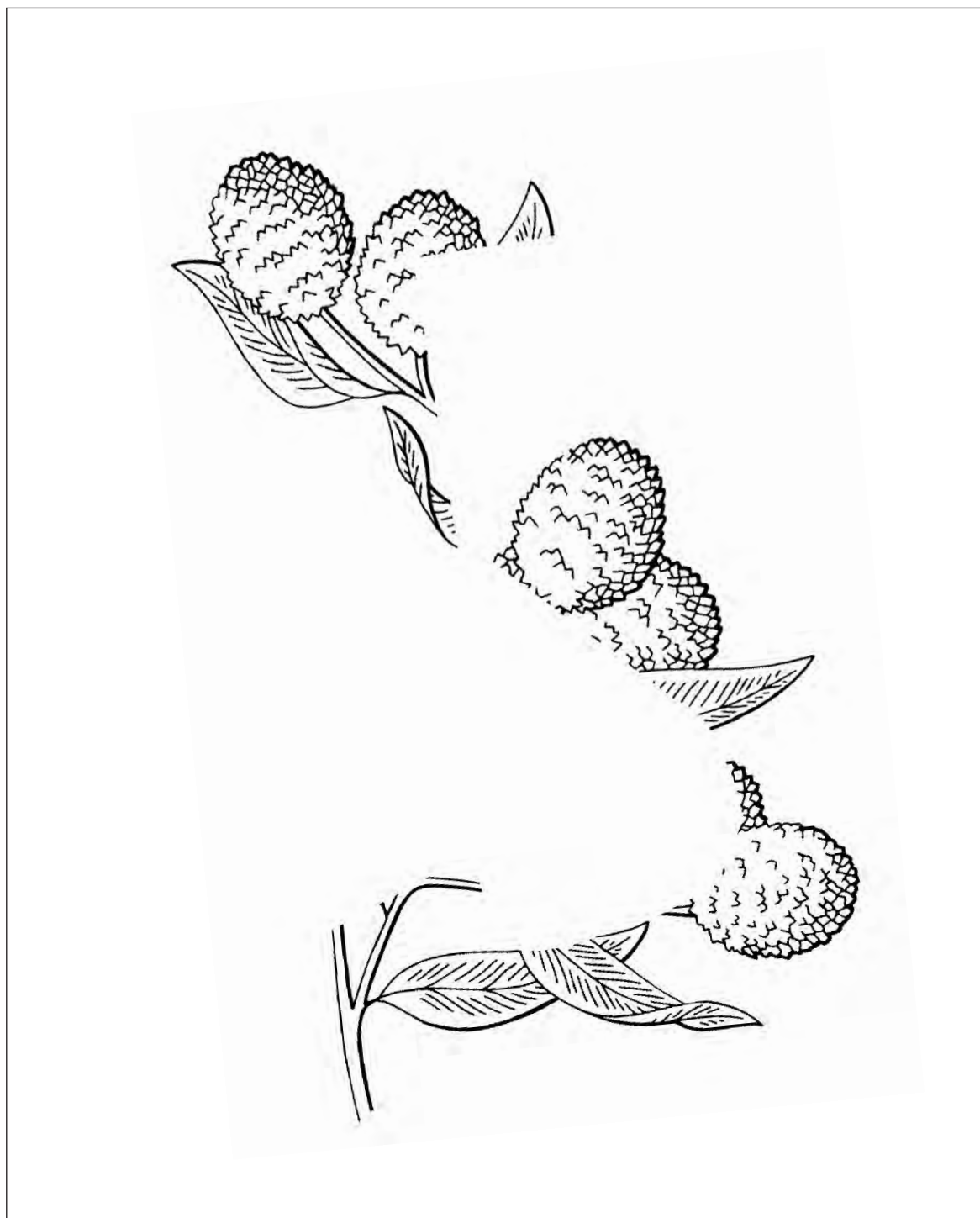


Empty rectangular box for writing the comparison comment.



PRUEBA DE APTITUD ARTÍSTICA
CICLOS FORMATIVOS DE GRADO SUPERIOR
CONVOCATORIA 2018
SEPTIEMBRE


Dibujo de línea. Termina el dibujo imaginando el instrumento incompleto. (Mano alzada)
(2 puntos)





PRUEBA DE APTITUD ARTÍSTICA
CICLOS FORMATIVOS DE GRADO SUPERIOR
CONVOCATORIA 2018
SEPTIEMBRE

Motivo geométrico. Completa la siguiente figura. Colorea con una gama de colores cálidos. (Mano alzada)
(2 puntos)






PRUEBA DE APTITUD ARTÍSTICA
CICLOS FORMATIVOS DE GRADO SUPERIOR
CONVOCATORIA 2018
SEPTIEMBRE

Valoración de grises. Completa la siguiente foto, reconstruye la parte que falta utilizando los grises necesarios.

(2 puntos)





PRUEBA DE APTITUD ARTÍSTICA
CICLOS FORMATIVOS DE GRADO SUPERIOR
CONVOCATORIA 2018
SEPTIEMBRE

Dibujo técnico. A partir de la vistas dadas, realiza la proyección isométrica. (Mano alzada)

(1 punto)

