



**PRUEBA DE APTITUD ARTÍSTICA
CICLOS FORMATIVOS DE GRADO MEDIO
CONVOCATORIA 2018**

RESOLUCIÓN 152/2018, de 12 de abril

CALIFICACIÓN

APELLIDOS

NOMBRE

DNI

Contesta, verdadero o falso, a las siguientes preguntas:

(2 puntos. 0,2 puntos por pregunta correcta)

1. En el círculo cromático, los colores diametralmente opuestos son los denominados 'colores complementarios'
2. La televisión es un invento del siglo XIX
3. La gubia es una herramienta usada para tallar madera.
4. La arcilla es adecuada para el modelado debido a su plasticidad.
5. Un icosaedro es un polígono de 20 lados
6. El DIN A3 es un formato de papel de mayor blancura que el DIN A4
7. Paul Cézanne fue un pintor impresionista cuya obra principal fue *Las Señoritas de Avignon*
8. El proceso de endurecimiento de la escayola se denomina fraguado.
9. Photoshop es una aplicación para crear imágenes vectoriales
10. Uno de los edificios característicos del estilo románico es la iglesia de peregrinación

V	F



PRUEBA DE APTITUD ARTÍSTICA
CICLOS FORMATIVOS DE GRADO MEDIO
CONVOCATORIA 2018

Escribe, en el recuadro inferior, un comentario comparando estas dos imágenes. (1 punto)

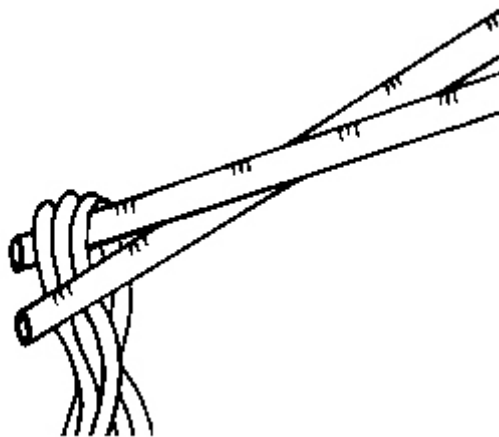




PRUEBA DE APTITUD ARTÍSTICA CICLOS FORMATIVOS DE GRADO MEDIO CONVOCATORIA 2018

Dibujo de línea. Termina el dibujo incompleto. (Mano alzada)

(2 puntos)





PRUEBA DE APTITUD ARTÍSTICA
CICLOS FORMATIVOS DE GRADO MEDIO
CONVOCATORIA 2018

Motivo geométrico. Completa la siguiente figura. Si es preciso utiliza líneas auxiliares. (Mano alzada)
(2 puntos)





PRUEBA DE APTITUD ARTÍSTICA CICLOS FORMATIVOS DE GRADO MEDIO CONVOCATORIA 2018

Valoración de grises. Completa la siguiente foto, reconstruye la parte que falta utilizando los grises necesarios.

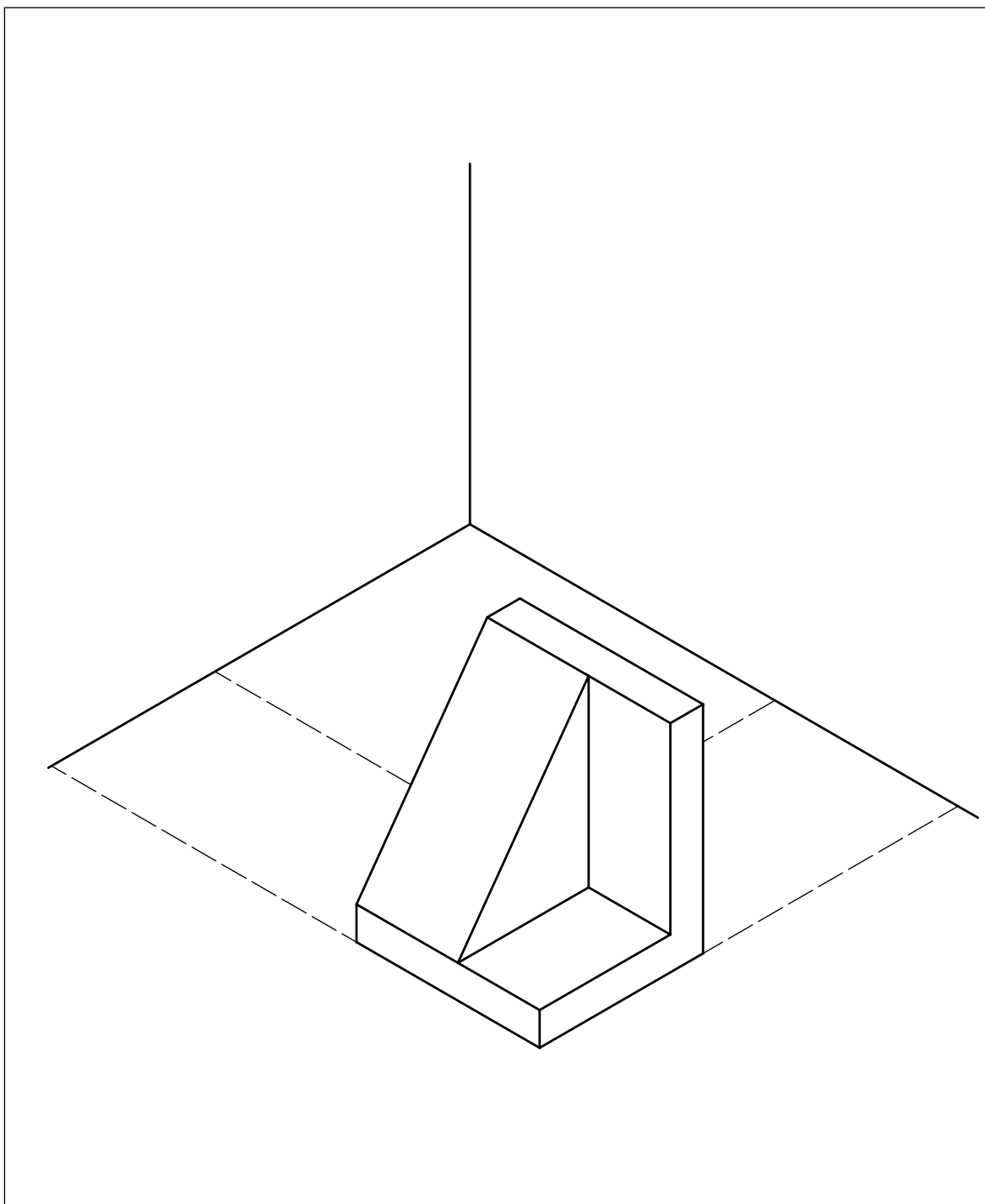
(2 puntos)





PRUEBA DE APTITUD ARTÍSTICA
CICLOS FORMATIVOS DE GRADO MEDIO
CONVOCATORIA 2018

Dibujo técnico. A partir de la pieza isométrica dada, realiza las vistas alzado y perfil. (Mano alzada)
(1 punto)



**PRUEBA DE APTITUD ARTÍSTICA
CICLOS FORMATIVOS DE GRADO MEDIO
CONVOCATORIA 2018**

RESOLUCIÓN 152/2018, de 12 de abril


SEPTIEMBRE**CALIFICACIÓN****APELLIDOS****NOMBRE****DNI****Contesta, verdadero o falso, a las siguientes preguntas:****(2 puntos. 0,2 puntos por pregunta correcta)**

	V	F
1. La talla es un proceso aditivo de generación de volumen, es decir, consiste en añadir material e ir dándole forma.		
2. El papel cuché o satinado tiene la propiedad de ser mate		
3. El grito, de Edvard Munch, está considerado como una de las más importantes obras del movimiento expresionista.		
4. Las proyecciones ortogonales para dibujar las distintas vistas de un objeto son planta, alzado y lateral.		
5. Indesign es un editor de textos, imágenes y gráficos de uso profesional		
6. Los periféricos o dispositivos de entrada y de salida son parte del software del ordenador		
7. La perspectiva cónica trata de representar los objetos tal y como son en verdadera magnitud		
8. El primer plano es un plano que encuadra un detalle que de otra manera pasaría desapercibido para el espectador		
9. La arcilla siempre que no se someta a cocción en un horno cerámico, es reutilizable añadiendo agua.		
10. El color luz es inmaterial proveniente del sol o proyectores artificiales: bombillas, llamas.		



PRUEBA DE APTITUD ARTÍSTICA
CICLOS FORMATIVOS DE GRADO MEDIO
CONVOCATORIA 2018
SEPTIEMBRE

Escribe, en el recuadro inferior, un comentario comparando estas dos imágenes. (1 punto)

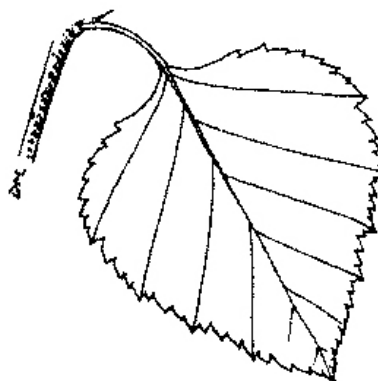




PRUEBA DE APTITUD ARTÍSTICA
CICLOS FORMATIVOS DE GRADO MEDIO
CONVOCATORIA 2018
SEPTIEMBRE

Dibujo de línea. Termina el dibujo incompleto. (Mano alzada)


(2 puntos)





PRUEBA DE APTITUD ARTÍSTICA
CICLOS FORMATIVOS DE GRADO MEDIO
CONVOCATORIA 2018
SEPTIEMBRE

Motivo geométrico. Completa la siguiente figura. Si es preciso utiliza líneas auxiliares. (Mano alzada)
(2 puntos)





PRUEBA DE APTITUD ARTÍSTICA
CICLOS FORMATIVOS DE GRADO MEDIO
CONVOCATORIA 2018
SEPTIEMBRE

Valoración de grises. Completa la siguiente foto, reconstruye la parte que falta utilizando los grises necesarios.

(2 puntos)





PRUEBA DE APTITUD ARTÍSTICA
CICLOS FORMATIVOS DE GRADO MEDIO
CONVOCATORIA 2018
SEPTIEMBRE

Dibujo técnico. A partir de la pieza isométrica dada, realiza las vistas alzado y perfil. (Mano alzada)
(1 punto)

