

## PRUEBA DE APTITUD ARTÍSTICA CICLOS FORMATIVOS DE GRADO SUPERIOR CONVOCATORIA 2017

RESOLUCIÓN 113/2017, de 7 de abril

**CALIFICACIÓN**

--

**APELLIDOS** \_\_\_\_\_

**NOMBRE** \_\_\_\_\_ **DNI** \_\_\_\_\_

**Contesta, verdadero o falso, a las siguientes preguntas:**

**(2 puntos. 0,2 puntos por pregunta correcta)**

1. Formas de revolución son aquellas que se generan haciendo girar un perfil plano alrededor de un eje.
2. Traveling es un término que se emplea en el cine para indicar que la cámara se desplaza de su ubicación mientras se graban imágenes.
3. El modelo CMYK es un modelo de color sustractivo que se utiliza en la impresión en colores.
4. Un dodecaedro regular es un poliedro regular formado por 12 triángulos regulares iguales.
5. El vaciado es un procedimiento utilizado para reproducir una escultura en un material diferente y más duradero que el original.
6. Juan Gris es una de las figuras más relevantes del Cubismo.
7. El escorzo es un recurso de la pintura, del dibujo y de la fotografía que se utiliza para dar la sensación de profundidad.
8. En escultura, una obra aislada visible desde todos los ángulos y que puede ser rodeada por el espectador, se denomina de bulto redondo o exenta.
9. Cóncava es la superficie que, con respecto a quien la mira, tiene su parte más deprimida por el centro.
10. Se llama palimpsesto al pergamino o escrito antiguo que conserva huellas de una escritura anterior que fue borrada.

V	F



## PRUEBA DE APTITUD ARTÍSTICA CICLOS FORMATIVOS DE GRADO SUPERIOR CONVOCATORIA 2017

Escribe, en el recuadro inferior, un comentario comparando estas dos imágenes. (1 punto)





**PRUEBA DE APTITUD ARTÍSTICA**  
**CICLOS FORMATIVOS DE GRADO SUPERIOR**  
**CONVOCATORIA 2017**


**Dibujo de línea. Termina el dibujo incompleto. (Mano alzada)**

**(2 puntos)**



**PRUEBA DE APTITUD ARTÍSTICA**  
**CICLOS FORMATIVOS DE GRADO SUPERIOR**  
**CONVOCATORIA 2017**

**Motivo geométrico. Completa la siguiente figura. Colorea con una gama de colores fríos. (Mano alzada)**  
**(2 puntos)**





## PRUEBA DE APTITUD ARTÍSTICA CICLOS FORMATIVOS DE GRADO SUPERIOR CONVOCATORIA 2017

Valoración de grises. Completa la siguiente foto, reconstruye la parte que falta utilizando los grises necesarios.

(2 puntos)

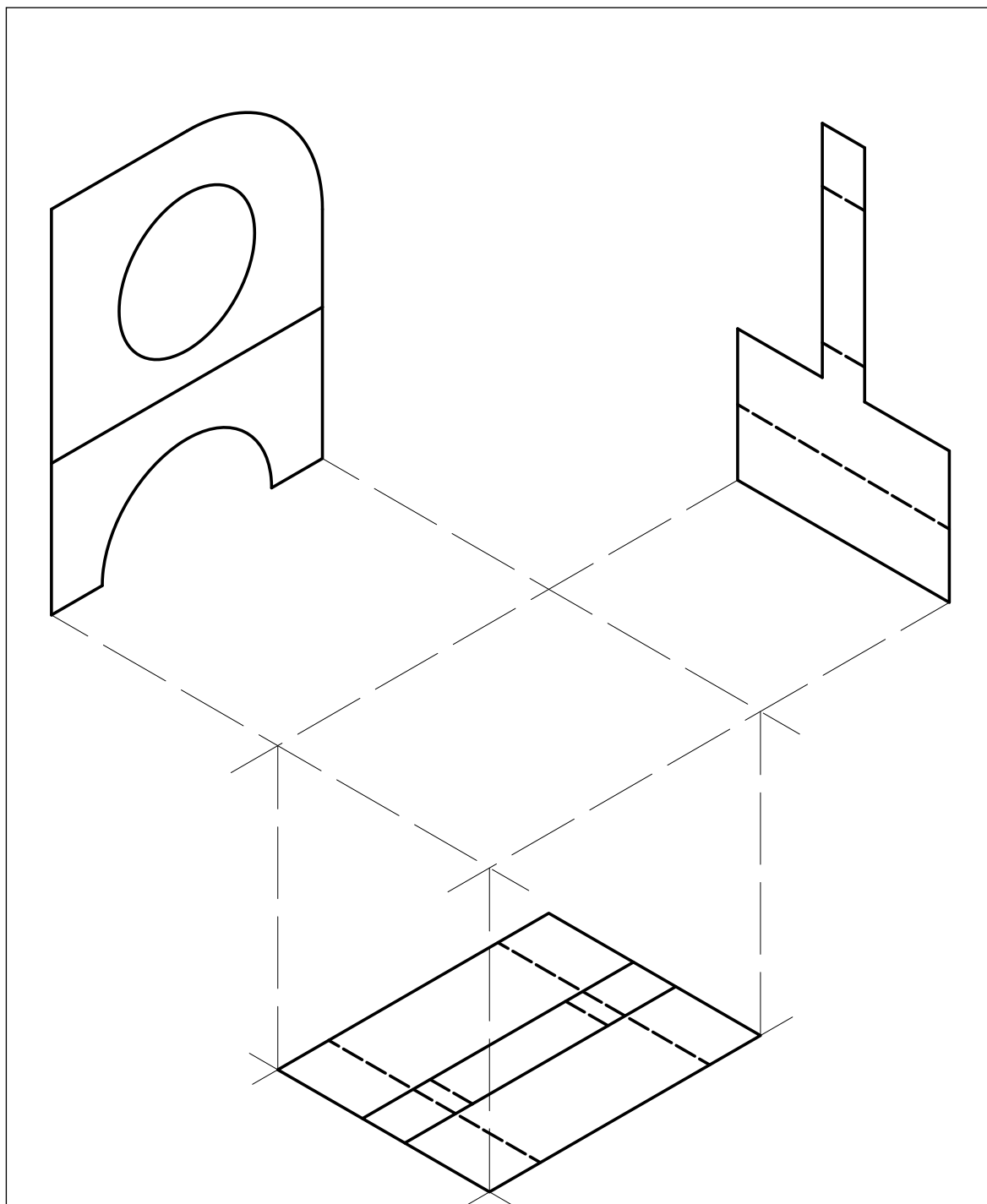




**PRUEBA DE APTITUD ARTÍSTICA**  
**CICLOS FORMATIVOS DE GRADO SUPERIOR**  
**CONVOCATORIA 2017**

**Dibujo técnico. A partir de la vista isométrica dada realiza la proyección en planta. (1 punto)**  
**(Mano alzada)**

**(1 punto)**



**PRUEBA DE APTITUD ARTÍSTICA  
CICLOS FORMATIVOS DE GRADO SUPERIOR  
CONVOCATORIA 2017  
SEPTIEMBRE**

RESOLUCIÓN 113/2017, de 7 de abril

**CALIFICACIÓN**

**APELLIDOS**

**NOMBRE**

**DNI**

**Contesta, verdadero o falso, a las siguientes preguntas:**

(2 puntos. 0,2 puntos por pregunta correcta)

	V	F
1. En fotografía, un flash es un dispositivo que controla la cantidad de tiempo que se expone a la luz la película.		
2. La calcografía es procedimiento de grabado que se caracteriza por la utilización de planchas de madera.		
3. El ojo humano no es capaz de percibir la luz ultravioleta.		
4. Un dodecaedro regular es un poliedro regular formado por 12 pentágonos regulares iguales.		
5. Los focos de la elipse son tres puntos. Respecto de ellos la suma de las distancias a cualquier otro punto de la elipse es constante.		
6. Bajorrelieve el aquel en que las figuras resaltan poco del plano.		
7. En tipografía, un tipo de letra de palo seco es aquel en el que cada carácter carece de las pequeñas terminaciones llamadas gracias.		
8. El dadaísmo es un movimiento cultural y artístico que se originó en 1916 en el Cabaret Voltaire en Zúrich (Suiza).		
9. El linóleo, también llamado linograbado, es una técnica de estampación en relieve, esto es, quedarán impresas las zonas altas de la matriz.		
10. Una cámara estenopeica es una cámara fotográfica sin lente.		





**PRUEBA DE APTITUD ARTÍSTICA**  
**CICLOS FORMATIVOS DE GRADO SUPERIOR**  
**CONVOCATORIA 2017**  
**SEPTIEMBRE**

Escribe, en el recuadro inferior, un comentario comparando estas dos imágenes. (1 punto)








**PRUEBA DE APTITUD ARTÍSTICA**  
**CICLOS FORMATIVOS DE GRADO SUPERIOR**  
**CONVOCATORIA 2017**  
**SEPTIEMBRE**

**Dibujo de línea. Termina el dibujo imaginando el instrumento incompleto. (Mano alzada)**


**(2 puntos)**





**PRUEBA DE APTITUD ARTÍSTICA**  
**CICLOS FORMATIVOS DE GRADO SUPERIOR**  
**CONVOCATORIA 2017**  
**SEPTIEMBRE**

Motivo geométrico. Completa la siguiente figura. Colorea con una gama de colores fríos. (Mano alzada)  
(2 puntos)



**PRUEBA DE APTITUD ARTÍSTICA**  
**CICLOS FORMATIVOS DE GRADO SUPERIOR**  
**CONVOCATORIA 2017**  
**SEPTIEMBRE**

Valoración de grises. Completa la siguiente foto, reconstruye la parte que falta utilizando los grises necesarios.

(2 puntos)





**PRUEBA DE APTITUD ARTÍSTICA**  
**CICLOS FORMATIVOS DE GRADO SUPERIOR**  
**CONVOCATORIA 2017**  
**SEPTIEMBRE**

**Dibujo técnico. A partir de la vista isométrica dada realiza la proyección en planta. (Mano alzada)**

**(1 punto)**

